

2021-2022 EĞİTİM ÖĞRETİM YILI İLKOKULU
SOSYAL BİLGİLER DERSİ 4/..... SINIFI 2.DÖNEM 2.YAZILI SORULARI

Adı-Soyadı:.....

Tarih:...../...../2022

Numara:.....

Puan:.....

SORULAR

A) Aşağıda verilen tümcelerden **doğru olanlara (D) ,yanlış olanlara (Y) işaretini koyunuz.(8 x 2 p =16 p)**

- (.....) Irak , Asya kıtasında bulunan komşularımızdan biridir .
- (.....) 15 Temmuz 2016 tarihinde milletimizin duruşu büyük bir milli birlik ve beraberlik örneğidir.
- (.....) Bireyler sorumluluk duygusuyla ilk olarak okulda tanışır.
- (.....) Sosyal etkinliklere katılmak becerilerimizi geliştirir, okul başarımızı artırır.
- (.....) Temel ihtiyaçlardan önce sosyal ve kültürel ihtiyaçlar karşılanmalıdır.
- (.....) Cumhuriyet, aile egemenliğine dayanan bir yönetim şeklidir.
- (.....) Bilinçli tüketici alışverişten sonra fiş veya faturasını alır.
- (.....) İnsanların ihtiyaçları olan ürünleri satın alarak kullanmasına tüketim denir.

B) Aşağıdaki tümcelerde boş bırakılan yerlere yukarıdaki sözcüklerden uygun olanını yazınız.(7x 2 P =14 P)

Ürdün	Afrika	okuldaki	bütçe	Finlandiya	yaşama	turizm
eğitim	Yunanistan	tasarruf	Bulgaristan	Avrupa	tarım	evdeki

- 1) Türkiye Asya ve kıtaları arasında bulunur.
- 2) Çocukların en temel hakkı hakkıdır .
- 3) Derslere zamanında girmek ve gürültü yapmamak sorumluluklarımızdandır.
- 4) son yıllarda eğitim alanında uyguladığı yöntemlerle adından söz ettirmiştir.
- 5) Mustafa Kemal Atatürk'ün doğduğu şehir olan Selanik'dadır.
- 6) Tarihi ve doğal güzellikleri olan bir yerde alanında ekonomik faaliyetler yürütülür.
- 7) Ailemizin gelir ve giderlerini gösteren listeye denir.

C) Aşağıdaki soruları cevaplayınız.

Kırgızistan – Suriye – Almanya – İran – Kazakistan – Hindistan – Azerbaycan – Bulgaristan İngiltere – Gürcistan – Türkmenistan – Özbekistan – Rusya – Yunanistan - Ürdün

1.) Yukarıdaki tabloda bulunan Türk cumhuriyetlerini yazınız. (5 x 2 p=10 p)

- a) b) c)
- d) e)

2.) Yukarıdaki tabloda bulunan ülkemize komşu olan ülkeleri yazınız. (5 x 2 p=10 p)

- a) b) c)
- d) e)

E) Aşağıdaki çoktan seçmeli soruların doğru cevaplarını işaretleyiniz. (Her soru 5 puan)

1) Ülkemizle kendilerini “**iki devlet bir millet**” olarak ifade eden **kardeş ülke** aşağıdakilerden hangisidir ?

- A) Gürcistan B) Azerbaycan
C) Kazakistan D) Bulgaristan

2) I- ABD II- Asya
III- Afrika IV- Rusya

Yukarıda verilenlerden hangileri **kıtadır**?

- A) I-II B) I-II-III C) Hepsi D) II-III

3) Sorumluluk duygusu çocuklara aşağıdakilerden hangisini **kazandırmaz**?

- A) Kendine güvenleri artar.
B) Zamanla büyüklerinin yardımına daha az ihtiyaç duyarlar.
C) Bağımsız iş yapamazlar.
D) Karar verme becerileri gelişir.

4) Güney komşumuz , en uzun kara sınırimızın olduğu ülkedir.

Yukarıda noktalı yere aşağıdaki ülkelerden hangisi gelmelidir?





- A) İran B) Bulgaristan
C) Gürcistan D) Suriye

5) Atatürk'ün hedeflediği milli egemenlik yolundaki en önemli adım yukarıdaki olaylardan hangisidir?


- A) Çanakkale Savaşı
B) Amasya Genelgesi
C) Türkiye Büyük Millet Meclisinin açılması
D) Sivas Kongresi

6) Aşağıdakilerden hangisi bilinçli tüketicinin özelliklerinden biridir?

- A) Aldığı ürünün son kullanma tarihine bakar.
B) Reklamların etkisinde kalır.
C) Aldığı ürünlerin faturasını almaz.
D) Ürünlerde TSE damgasına dikkat etmez.

7)  Birlik ve beraberlik  Korkaklık
 Demokrasiye bağlılık  Teslim olmak

15 Temmuz günü milletimiz için yukarıdaki ifadelerden hangileri söylenebilir?

- A)   B)  
C)   D)  

8) Aşağıdakilerden hangisi bir ürünün kaliteli olduğunu gösterir?

- A) Pahalı olması.
B) Reklamlarının yapılması.
C) Çok satılması.
D) TSE damgasının olması.

9) Aşağıdaki durumlardan hangisinde para **tasarrufu** yapılabilir?

- A) Gelir giderden azsa
B) Gelir giderden fazlaysa
C) Gelirle gider eşitse
D) Gelir olmazsa

10) Ümit bir tamircide çalıştığı için okula gidemiyor.

Ümit'in durumu çocuk haklarından hangisinin ihlal edilmesi ile ilgilidir?

- A) Eğitim hakkı B) Yaşama hakkı
C) Barınma hakkı D) Beslenme hakkı